

Nombre y apellidos:

Curso: Fecha:

EL ESPACIO Y EL TIEMPO

Las primeras civilizaciones históricas surgieron en el tercer milenio a.C. y se asentaron junto a grandes ríos, como el Nilo, el Tigris y el Éufrates. El aprovechamiento del agua permitió el **desarrollo del regadío** y el aumento de la población, dando origen a las **ciudades**.

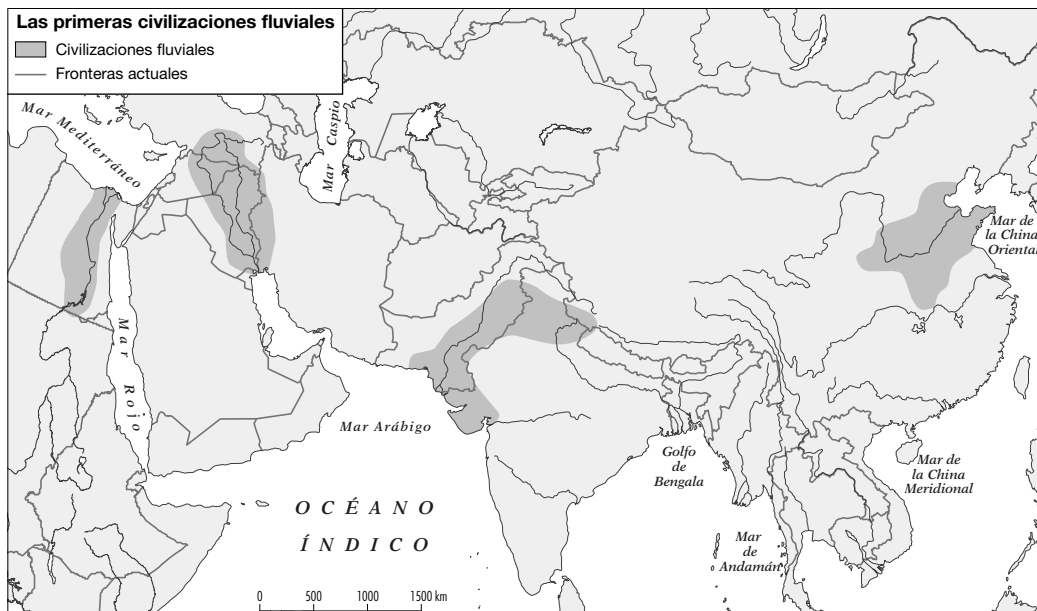
La sociedad era **jerarquizada**, y una minoría privilegiada (altos funcionarios, sacerdotes...) se impuso a la mayor parte de la población, formada por agricultores, ganaderos y artesanos.

1 Completa las frases siguientes.

- Las primeras civilizaciones se situaban junto a
- Estas sociedades eran y se organizaron bajo un poder
- Las principales civilizaciones fueron la de, situada junto al, y la de, situada junto a los

2 Sitúa en el mapa, escribiendo en los lugares correspondientes:

- Río Nilo, río Tigris, río Éufrates, río Indo y río Huang He.
- Menfis, Tebas, Babilonia, Assur, Uruk, Mohenjo-Daro y Huixian.



Nombre y apellidos:

3 Sitúa en el cuadro los hechos siguientes.

- Nacimiento de las primeras civilizaciones.
- Conquista persa de Mesopotamia.
- Nacimiento de la civilización egipcia.
- Nacimiento de la civilización cretense.

3500 a.C.	3100 a.C.	2000 a.C.	539a.C.

4 Escribe los nombres de los pueblos siguientes donde corresponda.

Acadios	Sumerios	Asirios	Babilonios	Persas
3500 - 2300 a.C.	2330 - 2130 a.C.	1800 - 600 a.C.	S. VII a.C. - 625 a.C.	539 a.C.

5 En el cuadro, sitúa las fechas que correspondan a cada período histórico de la civilización egipcia.

Imperio Antiguo	Imperio Medio	Imperio Nuevo	Bajo Imperio

6 Empareja cada uno de los acontecimientos con su fecha correspondiente.

- | | |
|--|----------------|
| Desaparición de la civilización cretense | 1069 a.C. |
| Formación del reino hebreo | 1050 a.C. |
| Fin del Imperio Nuevo egipcio | 1450 a.C. |
| Período sumerio en Mesopotamia | 3100 a.C. |
| Unión del Alto y del Bajo Egipto | 3500-2300 a.C. |

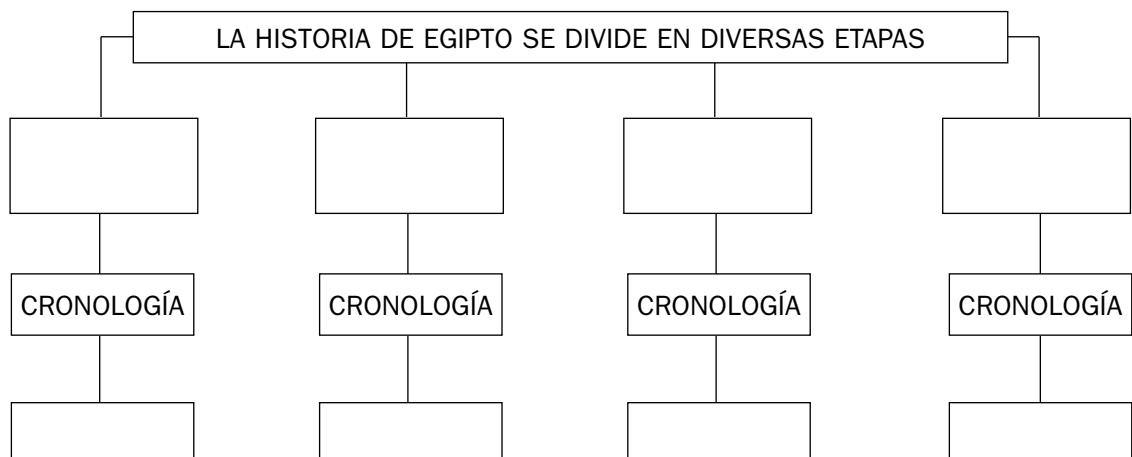
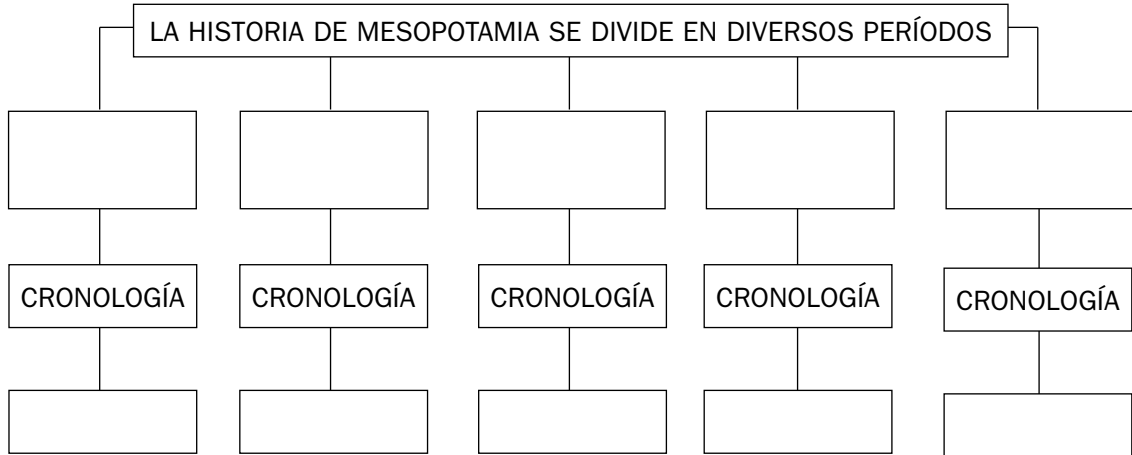
Nombre y apellidos:

7 Indica a qué acontecimientos se refieren las fechas siguientes.

- 3500 a.C.:
- 3100 a.C.:
- 2000 a.C.:
- 1550 a.C.:
- 1800-600 a.C.:
- 539 a.C.:

8 Calcula el número de años entre el 3500 a.C. y el 539 a.C.

9 Completa el esquema.



Nombre y apellidos:

Curso: Fecha:

LA CIVILIZACIÓN MESOPOTÁMICA

En **Mesopotamia**, zona situada entre los ríos Tigris y Éufrates, se desarrolló una importante civilización del 3500 a.C. al 539 a.C.

Diversos **pueblos**, como los sumerios, los acadios, los babilonios, los asirios y los persas crearon ciudades-estado e imperios. Tuvieron **reyes destacados**, como Sargón I, que formó un gran imperio con capital en Akad, y Hammurabi, rey babilonio que redactó un importante código de leyes.

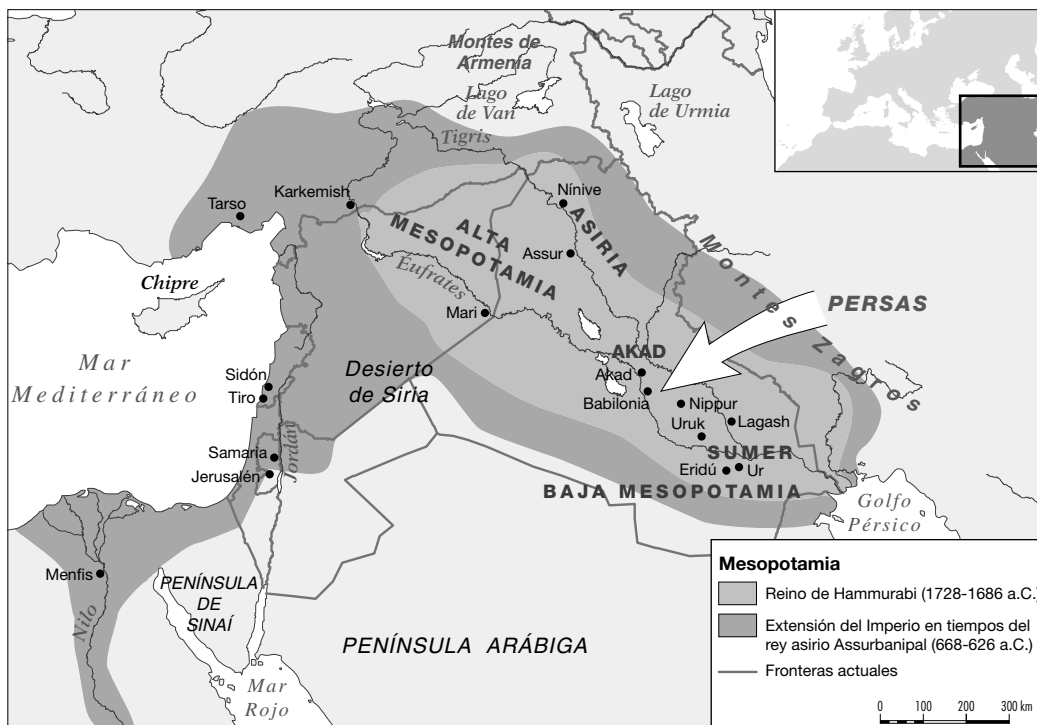
La **organización política** en las épocas iniciales descansó en ciudades-estado independientes, gobernadas por un rey-sa-

cerdote o patesi. Posteriormente, se crearon extensos imperios; como el asirio, bajo su rey Assurbanipal II.

La **sociedad se organizaba en tres estratos**: el **superior**, formado por el rey y su familia, los altos funcionarios y los sacerdotes; el **medio**, constituido por comerciantes y funcionarios, y el **inferior**, formado por artesanos, campesinos y esclavos.

La **economía** se basaba en la agricultura de regadío, que cultivaba cereales y hortalizas, y en la ganadería, que criaba ovejas, cabras y caballos. También practicaban la artesanía y el comercio.

1 Observa el mapa y responde: ¿por qué se denomina a Mesopotamia «tierra entre ríos»?



2 ¿Crees que la existencia de estos ríos favoreció el desarrollo de la civilización mesopotámica? ¿Por qué?

Nombre y apellidos:

3 Subraya en el mapa los nombres de las ciudades siguientes.

- Ur - Uruk - Lagash - Babilonia
- Akad - Assur - Nínive - Mari

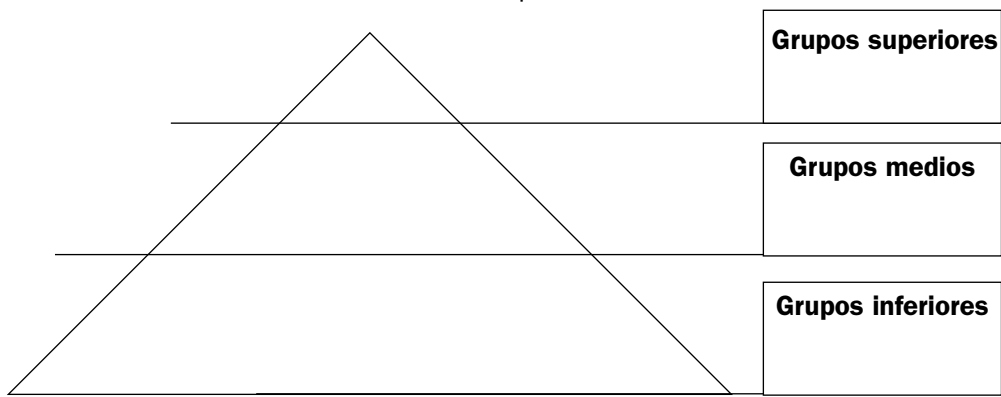
4 Escribe en los recuadros a qué pueblo pertenece cada uno de estos reyes y qué actos llevaron a cabo.

REY	PUEBLO AL QUE PERTENECE	PRINCIPAL ACTO
Sargón I		
Hammurabi		
Assurbanipal II		

5 Explica qué es una ciudad-estado. ¿Cuáles conoces de las situadas en Mesopotamia? ¿Quiénes las gobernaban?

6 ¿Sabrías también decir qué es un imperio? ¿Cuáles conoces de los que había en Mesopotamia?

7 Completa los recuadros siguientes de la pirámide con los grupos que componían los diferentes estratos de la sociedad mesopotámica.



Nombre y apellidos:

8 De las actividades económicas siguientes, subraya cuáles eran las principales que practicaban los habitantes de Mesopotamia.

- Minería – Comercio – Industria – Agricultura
- Ganadería – Electrónica – Artesanía – Banca

MESOPOTAMIA: SU LEGADO CULTURAL

Los habitantes de Mesopotamia **realizaron importantes aportaciones** culturales y artísticas. Inventaron la **escritura**, que se llevaba a cabo con un punzón y sobre tablillas de arcilla. Sus estudios de **astronomía** los llevaron a establecer un **calendario** bastante exacto. Practicaron las **matemáticas**, como consecuencia de la necesidad de llevar la contabilidad.

En el campo artístico, inventaron el **arco** y la **bóveda**, utilizados para construir sus edificios principales, que eran los **palacios**, residencia del rey, y los **templos**, dedicados a los dioses. Una construcción típica de Mesopotamia era el **zigurat**, torre escalonada dedicada al culto religioso.

También practicaron la **escultura**, representando a reyes y personajes notables, y el **relieve**, con escenas palaciegas, de guerra y de caza.

Su **religión** era **politeísta**, con dioses numerosos, como **Anu**, dios del cielo; **Marduk**, señor de los dioses, o **Isthar**, diosa del amor y de la fecundidad.

9 Escribe cuáles fueron las principales aportaciones culturales y artísticas de Mesopotamia.

10 Une con flechas los términos relacionados entre sí.

- | | |
|------------|----------------------|
| Escritura | Calendario |
| Astronomía | Tablillas de arcilla |
| Palacio | Politeísmo |
| Templo | Dioses |
| Religión | Residencia del rey |

11 Completa las frases siguientes.

- La escritura se realizaba mediante
- En arquitectura Mesopotamia creó el y la
- La torre escalonada se denominaba y se dedicaba al
- Una religión politeísta es aquella que tiene
- Para representar a personajes notables se utilizaba la y el
- Entre los principales dioses mesopotámicos estaban

Nombre y apellidos:

12 Recapitula y completa los espacios en blanco.

– Mesopotamia fue habitada por diferentes pueblos...

– Su organización política se basaba en...

– La sociedad se estructuraba en...

– La economía se apoyaba en...

– Sus principales aportaciones culturales fueron...

Nombre y apellidos:

Curso: Fecha:

LA CIVILIZACIÓN EGIPCIA

La civilización egipcia, desarrollada entre los años 3100 y 31 a.C., se asentó en **el valle del Nilo**. Al crecer y desbordarse el río, sus aguas fertilizaban la tierra, favoreciendo la agricultura.

En el 3100 a.C. se unieron el Alto y el Bajo Egipto, dando origen al **Imperio Antiguo** (3100-2181 a.C.), período en el que se hicieron las grandes pirámides.

Durante el **Imperio Medio** (2055-1795 a.C.), Egipto se extendió hacia el sur, y durante el **Imperio Nuevo** (1550-1069), Egipto dominó Siria y Palestina. En esta etapa reinaron faraones como Amenofis IV, Tutankamón y Ramsés II.

En el **Bajo Imperio** (751-31 a.C.), Egipto fue dominado por pueblos extranjeros y, finalmente, conquistado por los romanos.

La **organización política** descansaba en el **faraón**, rey-dios dueño de todo Egipto, que concentraba todo el poder y recibía culto. Estaba ayudado por altos funcionarios.

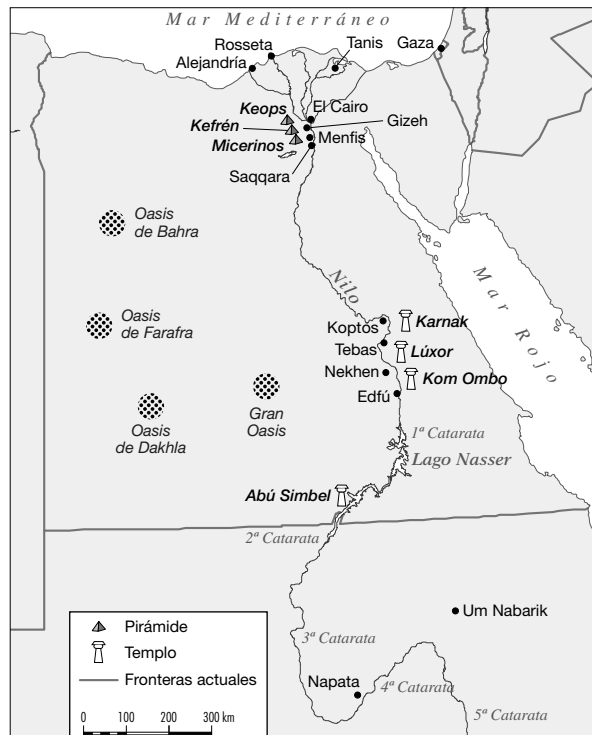
La **sociedad** se jerarquizaba en varios grupos sociales: la **clase superior**, formada por el faraón y su familia, los altos funcionarios y militares, los sacerdotes y los escribas; las **clases trabajadoras**, formadas por campesinos, artesanos y comerciantes, y la **clase inferior**, constituida por los esclavos.

La **economía** se apoyaba en la **agricultura irrigada**, que producía cereales, hortalizas y otros productos; en la **ganadería**, que proporcionaba animales para la alimentación y el trabajo; la **artesanía**, que fabricaba tejidos, cerámica y herramientas, y **el comercio exterior**.

1 Observa el mapa de Egipto y señala el curso del río Nilo.

2 Indica de los siguientes nombres cuáles se sitúan en el Alto Egipto y cuáles en el Bajo Egipto: Tebas, Karnak, Menfis, El Cairo, Luxor y Alejandría.

ALTO EGIPTO	BAJO EGIPTO



Nombre y apellidos:

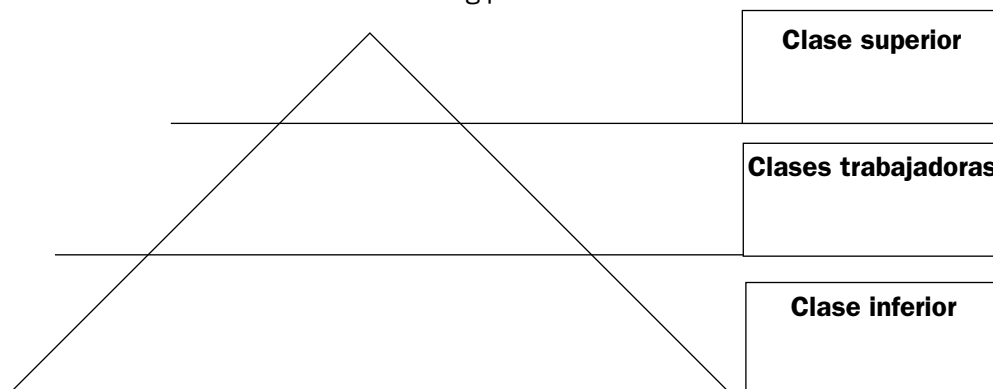
3 ¿Por qué eran importantes las crecidas del Nilo para Egipto?

4 Señala la cronología y acontecimientos principales de cada uno de los períodos de la historia de Egipto.

5 Señala si las afirmaciones siguientes son verdaderas (V) o falsas (F).

- El faraón tenía escaso poder
- El poder político se concentraba en el faraón
- El faraón era un esclavo egipcio.....
- El faraón gobernaba en Egipto
- El faraón era pariente del rey.....
- El faraón era considerado como un dios

6 Completa los recuadros siguientes de la pirámide con los grupos que componían los diferentes estratos de la sociedad egipcia.



Nombre y apellidos:

7 Escribe cuáles eran las principales actividades económicas del antiguo Egipto.

EL LEGADO CULTURAL EGIPCIO

La **religión** era muy importante para los egipcios; contaban con numerosos dioses, como Amón-Ra (dios del Sol), Osiris (dios de los muertos), Isis (la Luna) y Horus (dios del cielo).

Creían en la vida después de la muerte, por lo que conservaban el cuerpo mediante la **momificación**.

La **escritura**, utilizada desde el 3250 a.C., era jeroglífica, pues representaba palabras y sonidos mediante dibujos. Además, los egipcios crearon un **calendario** bastante exacto, con años de 365 días.

En el arte destacó la **arquitectura**; construyeron tumbas y grandes pirámides, que albergaban al faraón difunto, como las de Keops, Kefrén y Micerinos.

8 Recapitula y, lo aprendido y completa las frases siguientes.

- Egipto debe gran parte de su desarrollo a las crecidas del
- Su organización política se basaba en el que todo el poder.
- La sociedad se estructuraba en varias sociales.
- La economía se apoyaba en la agricultura, la, la y el
- La religión era, porque tenía varios dioses, como, y
- Los egipcios creían en la y para ello practicaban la
- Construyeron grandes para enterrar en ellos a los

Nombre y apellidos:

Curso: Fecha:

LOS PUEBLOS DEL MEDITERRÁNEO ORIENTAL

Desde el año 2000 a.C., destacan en el Mediterráneo oriental distintos pueblos.

Los **cretenses** crearon una civilización en Creta, dirigida por príncipes o reyes y basada en el comercio marítimo. Sus principales manifestaciones artísticas fueron los palacios, como el de Cnosos.

Los **fenicios** se situaban en la región de Fenicia, vivían en ciudades-estado, y fueron ex-

perimentados comerciantes y marinos, que recorrieron el Mediterráneo, fundando numerosas ciudades, como Cádiz y Cartago.

Los **hebreos** se dedicaban al pastoreo nómada, asentándose en Palestina, donde fundaron un reino con capital en Jerusalén. Creen en un solo dios y se consideran el pueblo elegido por este. Fueron los creadores del judaísmo.

1 Colorea en el mapa los lugares en los que se asentaban los cretenses, los fenicios y los hebreos.

2 Indica cuáles de estos pueblos se dedicaron principalmente al comercio por el Mediterráneo.

3 Relaciona los siguientes elementos uniéndolos mediante flechas.

Creta	Judaísmo
Fenicios	Palacios
Hebreos	Comerciantes



4 Completa las siguientes frases.

– Los cretenses vivían del marítimo y crearon, como el de

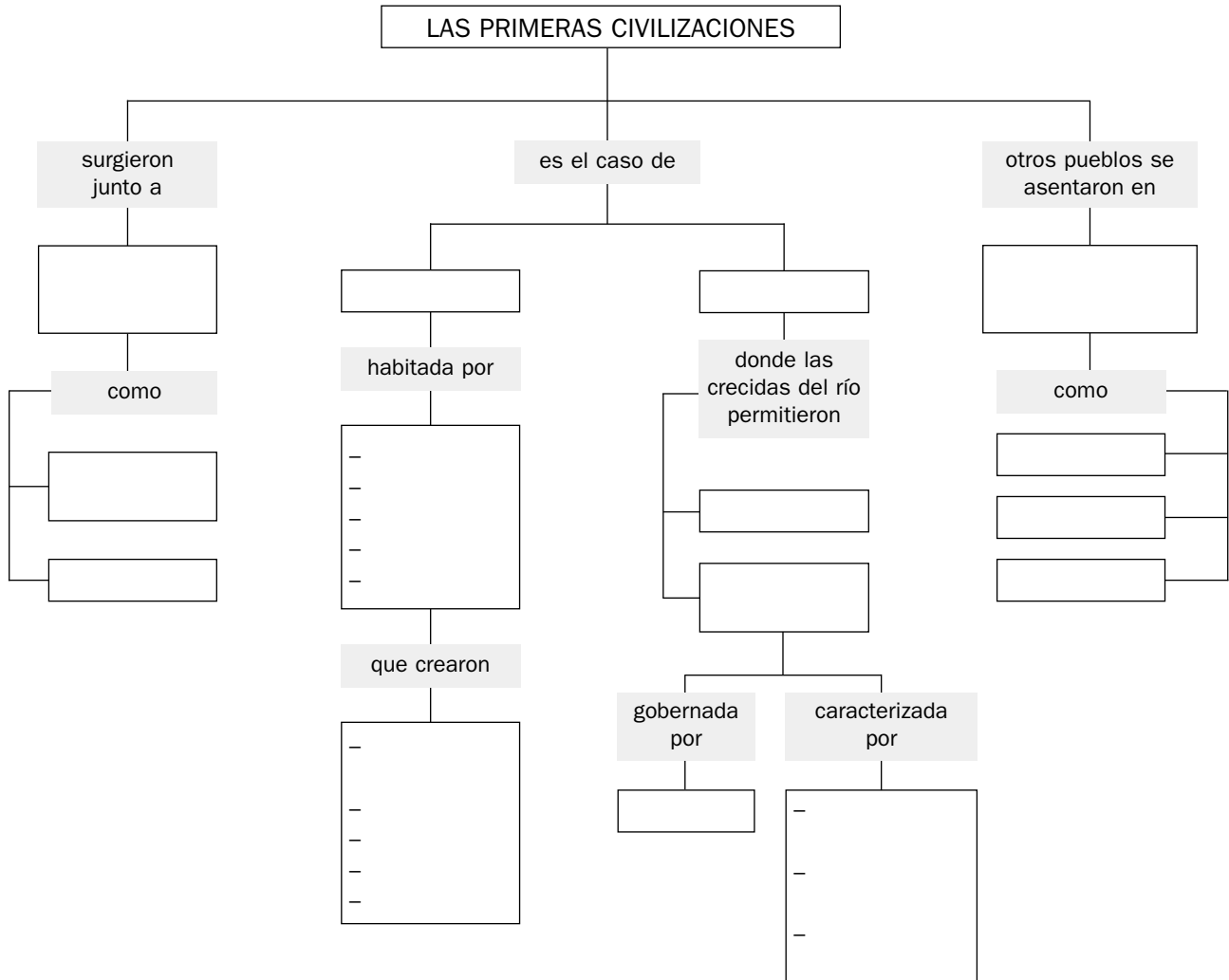
– Los fenicios recorrieron el practicando el, y fundaron numerosas colonias, como y

– Los hebreos se asentaron en, y fueron los creadores del

Nombre y apellidos:

Curso: Fecha:

ESQUEMA DE LA UNIDAD



Nombre y apellidos:

Curso: Fecha:

ACTIVIDADES DE AUTOEVALUACIÓN

1 Señala si las siguientes afirmaciones son verdaderas (V) o falsas (F), y corrige las que sean falsas.

- Las primeras civilizaciones históricas surgieron junto a los ríos
- La civilización mesopotámica surgió junto al río Nilo
- Los sumerios, los acadios y los babilonios habitaron el antiguo Egipto
- El faraón era considerado un dios y concentraba el poder en Egipto
- Hammurabi fue uno de los faraones más importantes
- Las sociedades de las primeras civilizaciones eran igualitarias
- Los cretenses y los fenicios fueron pueblos guerreros del Mediterráneo

2 Completa las frases siguientes.

- Mesopotamia significa tierra
- En Mesopotamia hubo ciudades-estado gobernadas por el
- En arquitectura, los pueblos mesopotámicos inventaron el
y la
- Los egipcios practicaban la momificación porque creían en la
- El poder se concentraba en el antiguo Egipto en la figura del
- Uno de los principales inventos de las primeras civilizaciones fue la
- Tanto en Mesopotamia como en Egipto, su religión era
- Los hebreos se asentaron en Palestina y crearon el
- Los fenicios comerciaron por el Mediterráneo y fundaron